

Geef de systematische naam van  $\text{H}_2\text{S}$ .




**Diwaterstofsulfide**



Geef de systematische naam van  $\text{HClO}_3$ .



**Waterstofchloraat**



Geef de systematische naam van  $\text{HBrO}_3$ .




**Waterstofbromaat**



Geef de systematische naam van  $\text{HIO}_3$ .




**Waterstofjodaat**



Geef de systematische naam van  $\text{H}_2\text{SO}_4$ .




**Diwaterstofsulfaat**



Geef de systematische naam van  $\text{HNO}_3$ .



**Waterstofnitraat**



Geef de systematische naam van  $\text{H}_3\text{PO}_4$ .




**Triwaterstoffosfaat**



Geef de systematische naam van  $\text{H}_2\text{CO}_3$ .



**Diwaterstofcarbonaat**



Geef de triviale naam van  $\text{H}_2\text{SO}_4$ .




**Zwavelzuur**



Geef de triviale naam van  $\text{HNO}_3$ .




**Salpeterzuur**



Geef de systematische naam van  $\text{NaOH}$ .




**Natriumhydroxide**



Geef de systematische naam van  $\text{Ca(OH)}_2$ .



**Calciumdihydroxide**



Geef de systematische naam van  $\text{Al(OH)}_3$ .




**Aluminiumtrihydroxide**



Geef de triviale naam van  $\text{NaOH}$ .




**Bijtende soda**



Geef de triviale naam van  $\text{Ca(OH)}_2$ .



**Gebluste kalk**



Welke pH-waarde heeft een zure oplossing?




**pH-waarde tussen 0 en 7**



Welke pH-waarde heeft een neutrale oplossing?



**pH-waarde van 7**



Welke pH-waarde heeft een basische oplossing?




**pH-waarde van 7 tot en met 14**



Geef de systematische naam van  $\text{NO}$ .




**Natriumoxide**



Geef de systematische naam van  $\text{NO}_2$ .




**Natriumdioxide**



Geef de systematische naam van  $\text{SO}_2$ .



**Zwavel dioxide**



Geef de systematische naam van  $\text{CO}$ .




**Koolstof oxide**



Geef de systematische naam van  $\text{CO}_2$ .




**Koolstofdioxide**



Geef de triviale naam van  $\text{CO}$ .




**Koolstofmonoxide**



Geef de systematische naam van  $\text{NaCl}$ .




**Natriumchloride**



Geef de systematische naam van  $\text{K}_3\text{PO}_4$ .




**Trikaliumfosfaat**



Geef de systematische naam van  $\text{AlF}_3$ .



**Aluminiumtrifluoride**



Geef de systematische naam van  $\text{Ba}(\text{ClO}_3)_2$ .



**Bariumdichloraat**



Is  $\text{ZnI}_2$  een binair of ternair zuur?  
(zinkdijodide)



**Binair**



Is  $\text{Mg}(\text{NO}_3)_2$  een binair of ternair zuur?  
(magnesiumdinitraat)



**Ternair**

